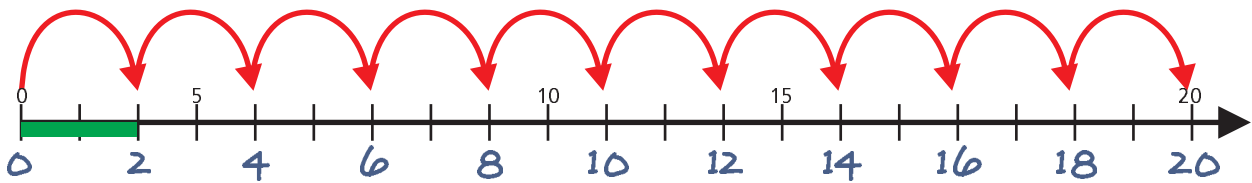


## 2er- bis 4er-Reihe des Einmaleins

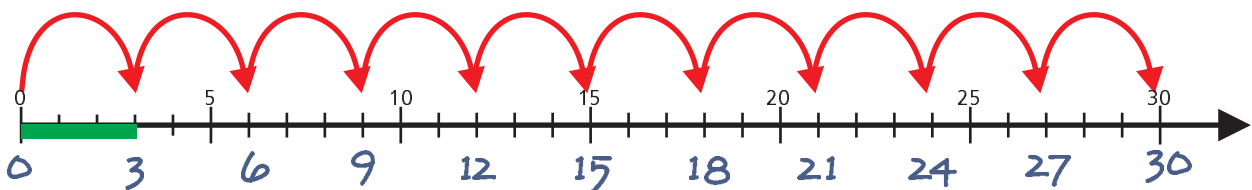
Die Vielfachen der Zahl 2 werden auch als 2er-Reihe bezeichnet.  
Bei der Zweierreihe vom Einmaleins rechnest du in Zweierschritten.



die 2-er  
Reihe

1	2	3	4	5	6	7	8	9	10	·2
2	4	6	8	10	12	14	16	18	20	

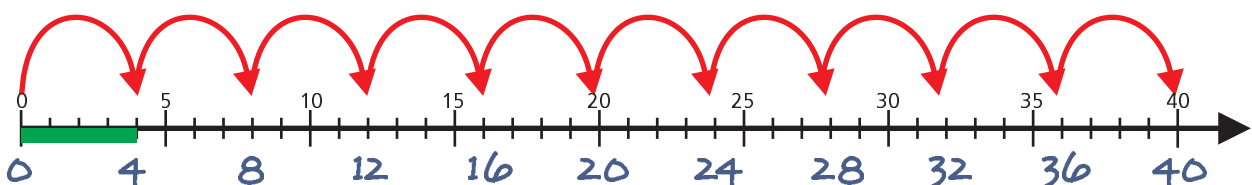
Die Vielfachen der Zahl 3 werden auch als 3er-Reihe bezeichnet.  
Bei der Dreierreihe vom Einmaleins rechnest du in Dreierschritten.



die 3-er  
Reihe

1	2	3	4	5	6	7	8	9	10	·3
3	6	9	12	15	18	21	24	27	30	

Die Vielfachen der Zahl 4 werden auch als 4er-Reihe bezeichnet.  
Bei der Viererreihe vom Einmaleins rechnest du in Vierserschritten.

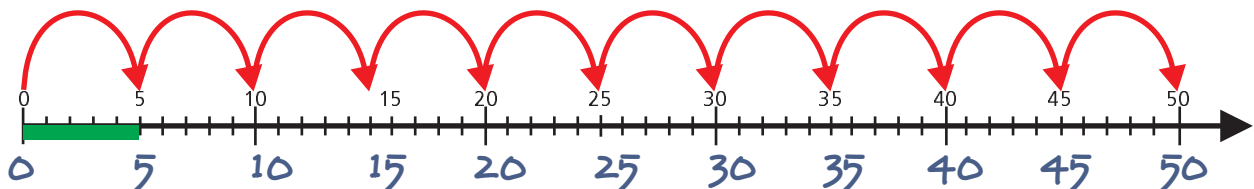


die 4-er  
Reihe

1	2	3	4	5	6	7	8	9	10	·4
4	8	12	16	20	24	28	32	36	40	

## 5er- bis 7er-Reihe des Einmaleins

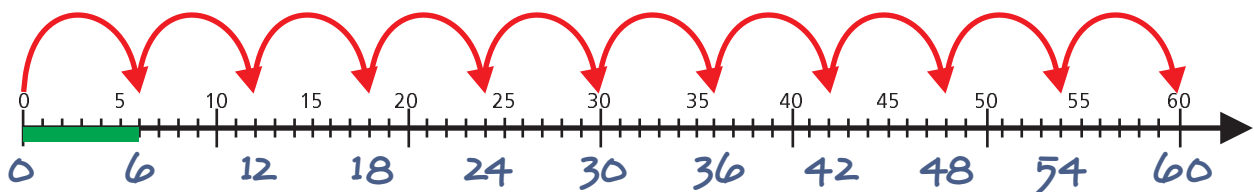
Die Vielfachen der Zahl 5 werden auch als 5er-Reihe bezeichnet.  
Bei der Fünferreihe vom Einmaleins rechnest du in Fünferschritten.



die 5-er  
Reihe

<b>1</b>	<b>2</b>	<b>3</b>	<b>4</b>	<b>5</b>	<b>6</b>	<b>7</b>	<b>8</b>	<b>9</b>	<b>10</b>	<b>·5</b>
<b>5</b>	<b>10</b>	<b>15</b>	<b>20</b>	<b>25</b>	<b>30</b>	<b>35</b>	<b>40</b>	<b>45</b>	<b>50</b>	

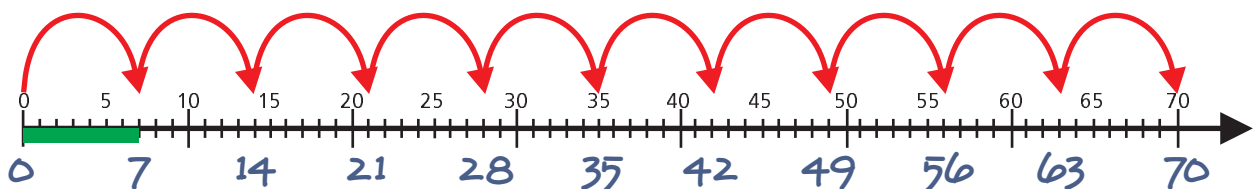
Die Vielfachen der Zahl 6 werden auch als 6er-Reihe bezeichnet.  
Bei der Sechserreihe vom Einmaleins rechnest du in Sechschritten.



die 6-er  
Reihe

<b>1</b>	<b>2</b>	<b>3</b>	<b>4</b>	<b>5</b>	<b>6</b>	<b>7</b>	<b>8</b>	<b>9</b>	<b>10</b>	<b>·6</b>
<b>6</b>	<b>12</b>	<b>18</b>	<b>24</b>	<b>30</b>	<b>36</b>	<b>42</b>	<b>48</b>	<b>54</b>	<b>60</b>	

Die Vielfachen der Zahl 7 werden auch als 7er-Reihe bezeichnet.  
Bei der Siebenerreihe vom Einmaleins rechnest du in Siebenschritten.

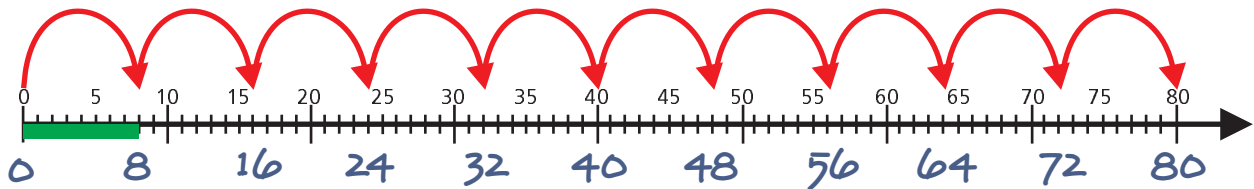


die 7-er  
Reihe

<b>1</b>	<b>2</b>	<b>3</b>	<b>4</b>	<b>5</b>	<b>6</b>	<b>7</b>	<b>8</b>	<b>9</b>	<b>10</b>	<b>·7</b>
<b>7</b>	<b>14</b>	<b>21</b>	<b>28</b>	<b>35</b>	<b>42</b>	<b>49</b>	<b>56</b>	<b>63</b>	<b>70</b>	

## 8er- bis 10er-Reihe des Einmaleins

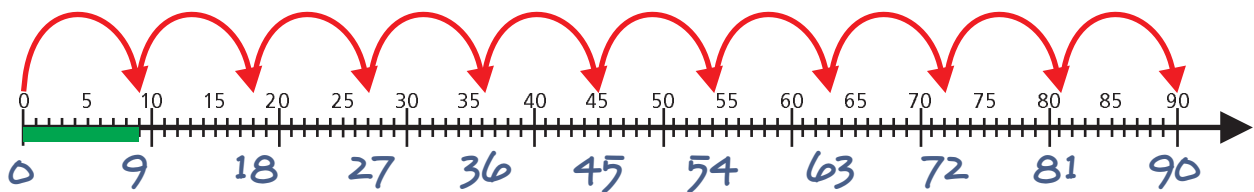
Die Vielfachen der Zahl 8 werden auch als 8er-Reihe bezeichnet.  
Bei der Achterreihe vom Einmaleins rechnest du in Achterschritten.



die 8-er  
Reihe

1	2	3	4	5	6	7	8	9	10	·8
8	16	24	32	40	48	56	64	72	80	

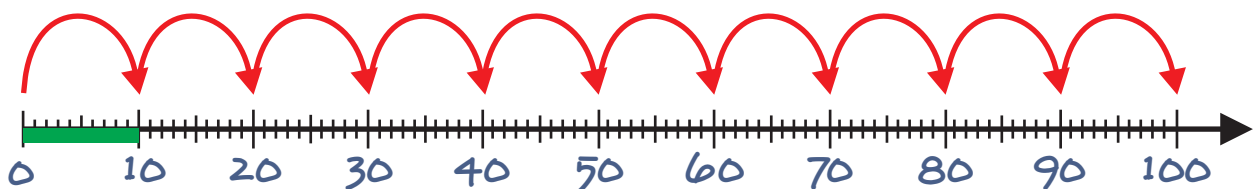
Die Vielfachen der Zahl 9 werden auch als 9er-Reihe bezeichnet.  
Bei der Neunerreihe vom Einmaleins rechnest du in Neunerschritten.



die 9-er  
Reihe

1	2	3	4	5	6	7	8	9	10	·9
9	18	27	36	45	54	63	72	81	90	

Die Vielfachen der Zahl 10 werden auch als 10er-Reihe bezeichnet.  
Bei der Zehnerreihe vom Einmaleins rechnest du in Zehnerschritten.



die 10-er  
Reihe

1	2	3	4	5	6	7	8	9	10	·10
10	20	30	40	50	60	70	80	90	100	